



Colégio Dinâmico

Educação Infantil - Ensino Fundamental - Ensino Médio

  colegiodinamico  colegiodinamicojatai.com.br


ALUNO (A): _____ DATA: 01/04/2020

PROFESSORA: _____ **JARDIM I**

OLHA OS NÚMEROS! VAMOS CONTAR!

0 1 2 3 4 5 6 7 8 9

1. DESENHE DENTRO DO QUADRO 3 OVINHOS BEM COLORIDOS.



2. QUANTAS CESTINHA O COELHO TEM? VAMOS CONTAR E REGISTRAR A QUANTIDADE.





Colégio Dinâmico

Educação Infantil - Ensino Fundamental - Ensino Médio



colegiodinamico



colegiodinamicojatai.com.br

ALUNO (A): _____ DATA: 01/04/2020

PROFESSORA: _____ JARDIM I

PINTE A QUANTIDADE DE QUADRADOS QUE O NUMERAL ESTIVER INDICANDO:

3

--	--	--	--

1


--	--	--	--

2

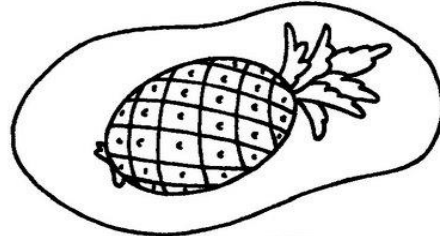
--	--	--	--

LIGUE CADA NUMERAL AO CONJUNTO CORRESPONDENTE:

1



2



3

