



# Colégio Dinâmico

Educação Infantil - Ensino Fundamental - Ensino Médio



colegiodinamico



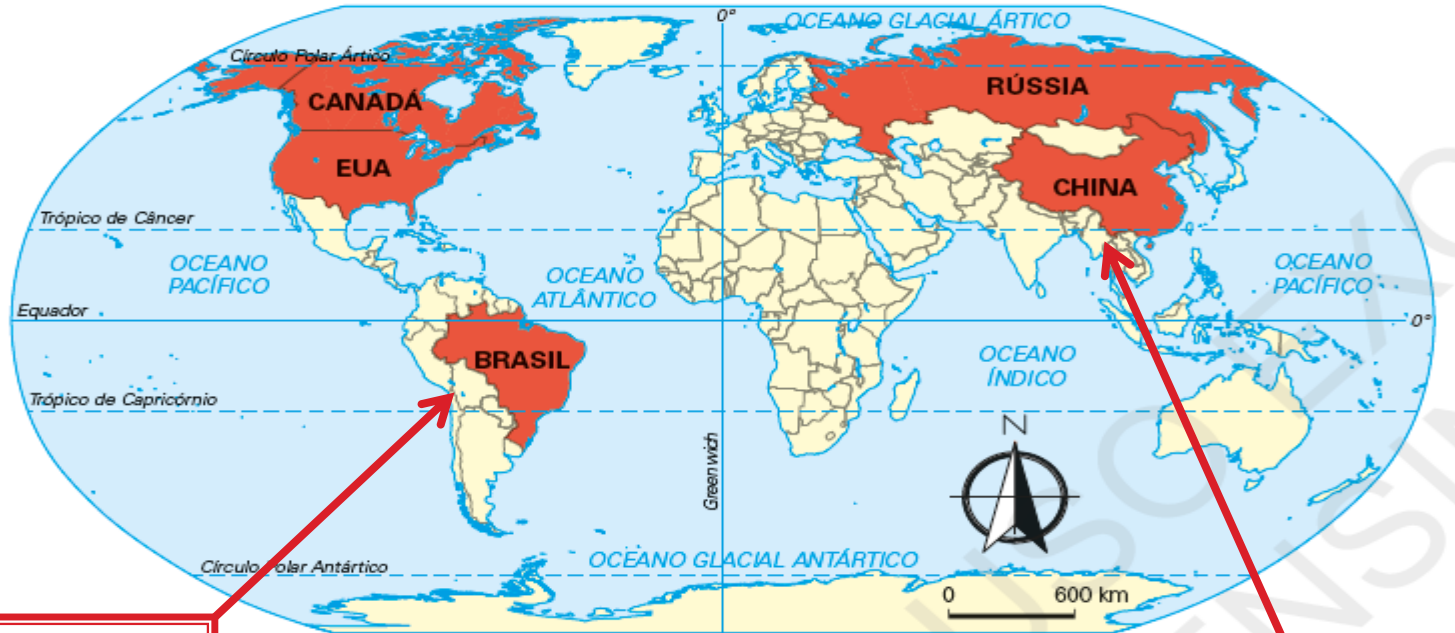
colegiodinamicojatai.com.br

## **GEOGRAFIA-7 ANOS**

**Professor: Leonardo**

# O TAMANHO DOS PAÍSES.


## Os maiores países do mundo em extensão territorial



**Brasil:**  
localiza-se na parte Sul do continente Americano. Uma pequena parte no hemisfério Norte.

- |                   |                            |
|-------------------|----------------------------|
| 1. Rússia         | 17 075 400 km <sup>2</sup> |
| 2. Canadá         | 9 976 139 km <sup>2</sup>  |
| 3. China          | 9 596 961 km <sup>2</sup>  |
| 4. Estados Unidos | 9 363 520 km <sup>2</sup>  |
| 5. Brasil         | 8 514 876 km <sup>2</sup>  |

**China:** localiza-se no oriente- Leste do continente asiático. Ainda, a Oeste do Oceano Pacífico.

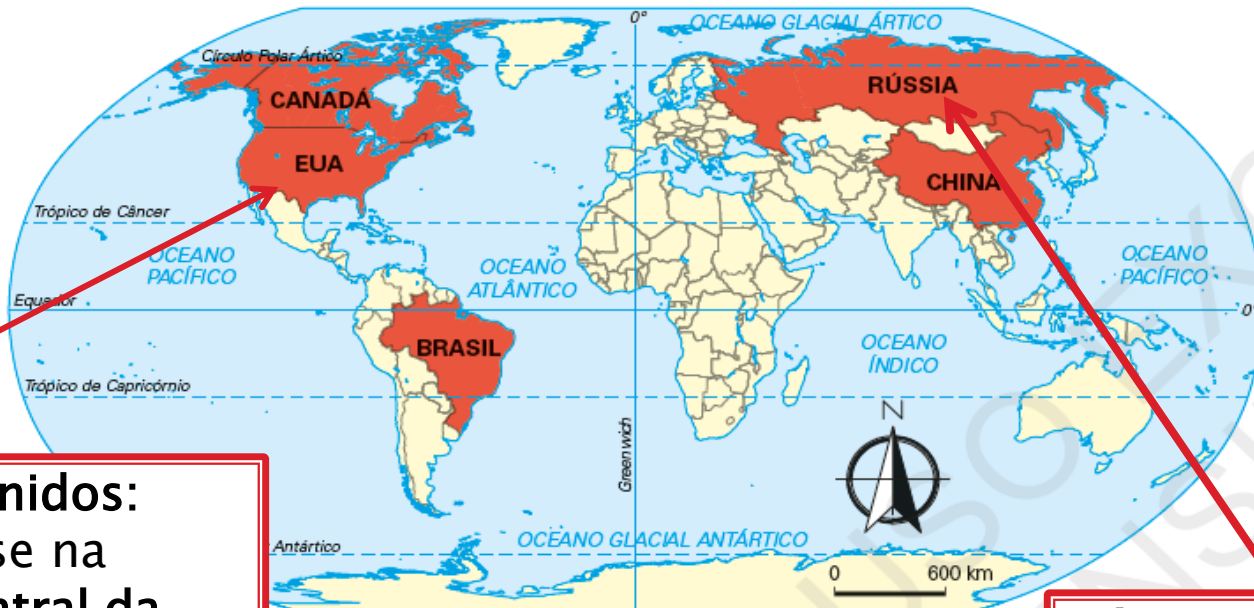


# LOCALIZAÇÃO DOS MAIORES PAÍSES.

222 CAPÍTULO 2

ALL MAPS

## Os maiores países do mundo em extensão territorial



**Estados Unidos:**  
Localiza-se na região central da América do Norte. Faz fronteira ao Norte com o Canadá e ao Sul com o México.

- |                   |                            |
|-------------------|----------------------------|
| 1. Rússia         | 17 075 400 km <sup>2</sup> |
| 2. Canadá         | 9 976 139 km <sup>2</sup>  |
| 3. China          | 9 596 961 km <sup>2</sup>  |
| 4. Estados Unidos | 9 363 520 km <sup>2</sup>  |
| 5. Brasil         | 8 514 876 km <sup>2</sup>  |

**Rússia:** Localiza-se a Leste-Oriente. Ainda, no hemisfério Norte.

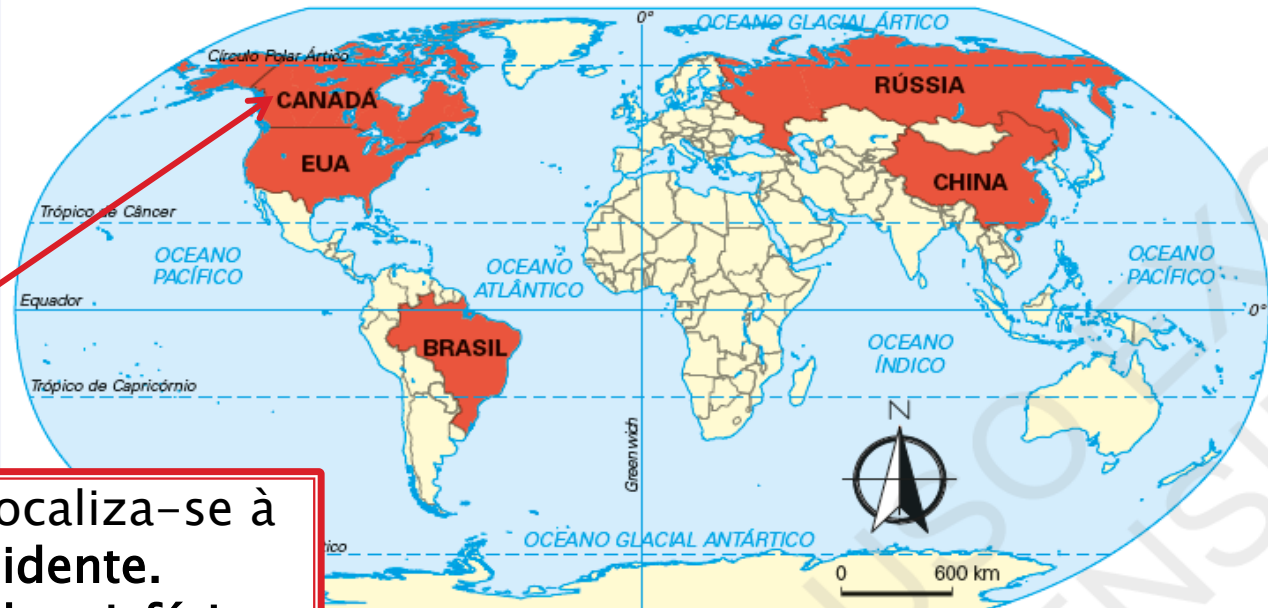
# LOCALIZAÇÃO DOS MAIORES PAÍSES.

CAPÍTULO 2

222

ALL MAPS

## Os maiores países do mundo em extensão territorial



**Canadá:** Localiza-se à Oeste- Ocidente. Ainda, no hemisfério Norte. Ao norte, limita-se com o Ártico e a Groelândia.

- |                   |                            |
|-------------------|----------------------------|
| 1. Rússia         | 17 075 400 km <sup>2</sup> |
| 2. Canadá         | 9 976 139 km <sup>2</sup>  |
| 3. China          | 9 596 961 km <sup>2</sup>  |
| 4. Estados Unidos | 9 363 520 km <sup>2</sup>  |
| 5. Brasil         | 8 514 876 km <sup>2</sup>  |



# SUGESTÃO DE ATIVIDADE.

- Tente reproduzir o mapa abaixo em seu caderno. Depois, crie uma legenda com cores diferentes para cada país. Nesse sentido, obedeça as mesmas cores do mapa na legenda. Ainda, procure informações territoriais sobre os países em questão.

# MAPA-MÚNDI PARA COLORIR



[www.estadosecapitaisdobrasil.com](http://www.estadosecapitaisdobrasil.com)

