



# Colégio Dinâmico

Educação Infantil - Ensino Fundamental - Ensino Médio



colegiodinamico



colegiodinamicojatai.com.br

Aluno (a): \_\_\_\_\_ Data: \_\_\_\_ / \_\_\_\_ / 2020.

Professor (a): João Fernando

Série: 9º Ano:

## Atividade Sugerida de Geografia 9 Ano.

Esta atividade faz referência ao módulo 13 e 14, pag. 239.

Leia o texto e resolva os exercícios.

### Características da Europa.

Do ponto de vista histórico cultural há muitas diferenças. Mas e do ponto de vista natural? Vamos ver quais as semelhanças e quais as diferenças neste imenso continente?

Localizada entre o Círculo Polar Ártico e o Trópico de Câncer, primeiramente podemos perceber ao visualizar o mapa da Europa que o continente Europa e Ásia formam um território contínuo, a Eurásia, e o que separa geograficamente os dois continentes é um limite natural, os **Montes Urais**. Trata-se de uma cordilheira que se estende no sentido norte-sul passando pela Rússia.

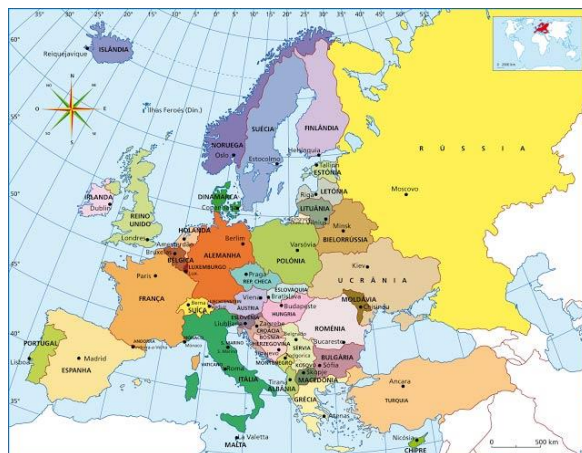


**Figura 1**– Mapa dos Montes Urais- Limite natural entre a Europa e a Ásia. A Europa é um continente bastante irregular do ponto de vista geográfico. Seu contorno é todo recortado, com diversas baías, golfos, penínsulas, enseadas, istmos, que marcam seu litoral. Destacam- se também numerosas ilhas, como a Grã-Bretanha e a Islândia.

## A Delimitação do continente Europeu

Ao Leste a Europa se limita com a Ásia, e é separada pelos Montes Urais. A Oeste, suas terras fazem limite com o Oceano Atlântico, ao sul os limites são com os Mares: Negro, Egeu, Mediterrâneo, Jônico, e as montanhas do Cáucaso.

E, ao norte é delimitado pelo Oceano Glacial Ártico



## O Clima na Europa

Os principais tipos de clima predominantes na Europa são: semiárido, temperado, mediterrâneo, frio e polar. E os fatores que influenciam no clima são:

**Relevo**– esse fator irá determinar alguns tipos de clima na Europa, como por exemplo, onde há planícies, maior parte dos terrenos da Europa, as frentes frias vindas do Ártico predominam, originando um clima mais frio. Já no sul com a presença dos Alpes, Cárpatos, Balcãs e Cáucaso não deixam que as massas de ar quente da África entrem no continente, dando origem ao clima mediterrâneo, fazendo com que em algumas regiões da Europa seja quente e seco.

**Correntes Marítimas**– a principal corrente que influencia na Europa, é a do Atlântico Norte. Ela situa-se na parte ocidental e traz a corrente quente do golfo do México, fazendo com que os invernos sejam menos rigorosos.

**Maritimidade**– com a característica de um litoral bem recortado, o continente sofre a influência da Maritimidade, isto é, as amplitudes térmicas diárias são maiores no litoral do que no interior. Fazendo com que os verões sejam mais amenos e os invernos menos rigorosos.

**Figura 3- Clima em Moscou (frio e neve). E clima temperado na Holanda:**



## A Vegetação Europeia:

A vegetação e o clima são interdependentes, portanto em climas com temperaturas baixas teremos vegetação do tipo: tundra; alta montanha, deserto gelado e Floresta de Coníferas. Nos locais mais amenos, predominam as florestas temperada caducifólia, estepe e pradaria e vegetação mediterrânea.

### Atividade Sugerida.

**1 - (UFC/2007)** Considerando as características das formações vegetais e as transformações impostas pelo homem, correlacione corretamente as formações vegetais indicadas na coluna da esquerda com as características descritas na coluna da direita.

- (I) Floresta temperada
- (II) Floresta estacional e savanas
- (III) Vegetação mediterrânea
- (IV) Florestas pluviais equatoriais tropicais

( ) Formações vegetais em regiões de clima com verões quentes e secos e invernos amenos e chuvosos. As maiores ocorrências estão no sul da Europa, onde foi muito desmatada para o cultivo de oliveiras e videiras.

( ) Formações higrófilas e latifoliadas, extremamente heterogêneas, localizadas nas baixas latitudes, em domínios quentes e úmidos. Nas últimas décadas, o desmatamento provocou grande redução das áreas florestadas.

( ) Formações florestais caducifólias, encontradas em latitudes intermediárias, com precipitação abundante e regularmente distribuída. Devido a práticas agrícolas intensivas e à intensa urbanização, restam poucas áreas representativas.

( ) Formações vegetais adaptadas à alternância de verões chuvosos e invernos secos. Vegetação complexa com estratos arbóreo, arbustivo e herbáceo. Amplamente utilizada para agricultura e pecuária.

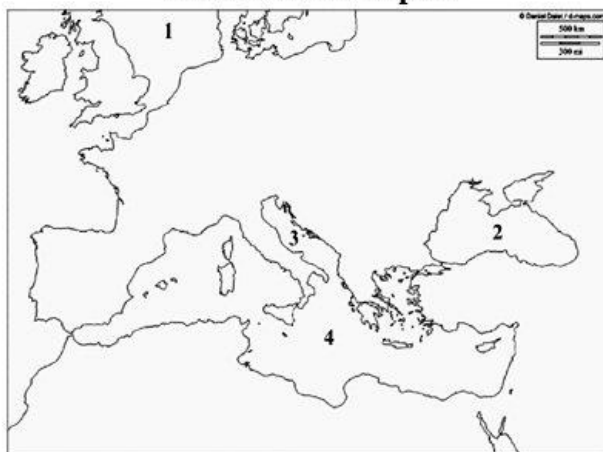
Marque a alternativa que apresenta a sequência correta, decorrente do preenchimento da coluna da direita.

Estão corretas,

- (a) III, I, II e IV
- (b) I, II, III e IV
- (c) I, IV, III e II
- (d) IV, I, II e III
- (e) III, IV, I e II

**2 - (Mackenzie SP/2016)**

**Continente Europeu**



Os mares europeus, historicamente, facilitaram o desenvolvimento econômico, social e político do continente.

Considere as afirmações a respeito dos mares europeus numerados no mapa.

- I. O número 1 corresponde ao Mar do Norte. Nele, desaguam importantes rios como o Tâmis, Elba e Reno.  
II. O número 2 corresponde ao Mar Cáspio. Os rios Volga e Ural desaguam neste mar, que é ligado também ao mar de Azov por um estreito canal.  
III. O número 3 corresponde ao Mar Adriático. Suas águas banham as regiões costeiras dos seguintes países: Itália, Eslovênia, Croácia, Bósnia e Herzegovina, Montenegro e Albânia.  
IV. O número 4 corresponde ao Mar Mediterrâneo. Desde a Antiguidade, representou uma zona privilegiada de contatos culturais, intensas relações comerciais e de constantes confrontos políticos. Comunica-se com o oceano Atlântico pelo estreito de Gibraltar.

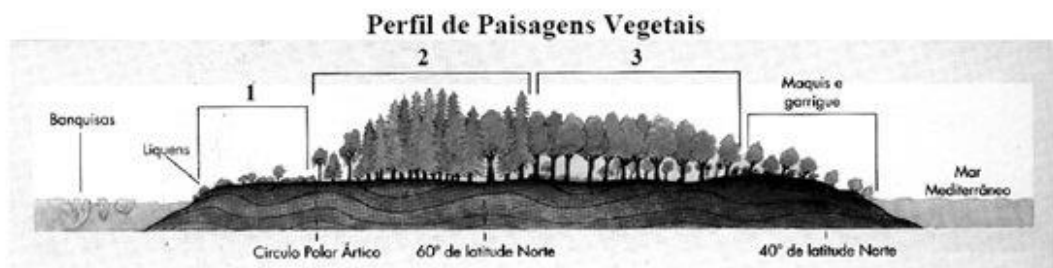
Estão corretas,

- (a) I, II, III e IV.  
(b) I, II e III, apenas.  
(c) II e III, apenas.  
(d) I, III e IV, apenas.  
(e) I e II, apenas.

**3 - (IFCE/2016)** Sobre a população do continente europeu, é **correto** afirmar-se que:

- (a) o país que possui a mais alta população absoluta é a Holanda.  
(b) apesar de a Rússia ser o país mais populoso, apresenta uma população relativa baixa, resultado do enorme território.  
(c) as regiões mais povoadas do continente se encontram na Europa centro-oriental.  
(d) está concentrada principalmente na parte setentrional do continente.  
(e) os vazios demográficos ocorrem no sul da Europa, fator provocado pelo clima.

**4 - (UNIMONTES MG/2015)**



É possível identificar no perfil de paisagens vegetais da Europa que os números 1, 2 e 3 correspondem, respectivamente, a

- (a) Conífera, Tundra e Savana.  
(b) Tundra, Taiga e Floresta Temperada.  
(c) Estepe, Floresta Temperada e Conífera.  
(d) Pradaria, Tundra e Taiga.

## Gabarito

1 – E

2 – D

3 – B

4 - B

## Vídeo Sugerido.

<https://www.youtube.com/watch?v=766K33ZuS0Q>

## Referencia:

[Blog do ENEM. Disponível em <https://blogdoenem.com.br/continente-europeu-e-suas-caracteristicas-simulado-enem/>](https://blogdoenem.com.br/continente-europeu-e-suas-caracteristicas-simulado-enem/) Acesso em: 17/03/2019.