



Colégio Dinâmico

Educação Infantil - Ensino Fundamental - Ensino Médio

  colegiodinamico  colegiodinamicojatai.com.br

Aluno (a): _____ Data: 08 / 04/ 2020.

Professora: _____ Série: 2º Ano Turma: (A) (B)

REVISÃO DE MATEMÁTICA – 1º BIMESTRE

Grupo: 1
Capítulo: 2

1. André tinha 20 carrinhos em sua coleção, certo dia ele deu 5 carrinhos para seu amigo. Com quantos carinhos André ficou?




Resposta: _____

2. A mãe de Felipe deu para ele 50 reais para ir ao parque de diversões, ele gastou 35 reais. Quanto sobrou do dinheiro de Felipe?



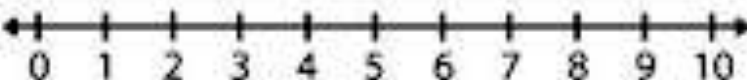
Resposta: _____

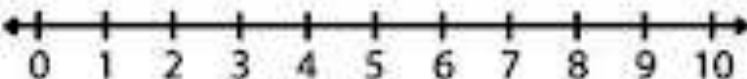
3. Paulo ganhou de presente de aniversário 35 bolinhas de gude, para não deixar seu irmão mais novo triste, Paulo deu 15 bolinhas para ele. Com quantas bolinhas Paulo ficou?

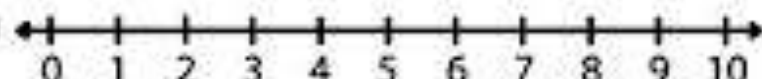


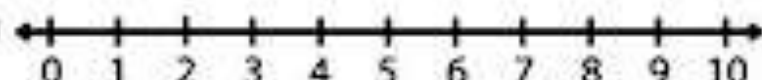
Resposta: _____

4. Utilize a reta numérica para completar as operações abaixo.

$$10 - 3 = \square$$


$$10 - 5 = \square$$


$$4 + \square = 10$$


$$8 + \square = 10$$


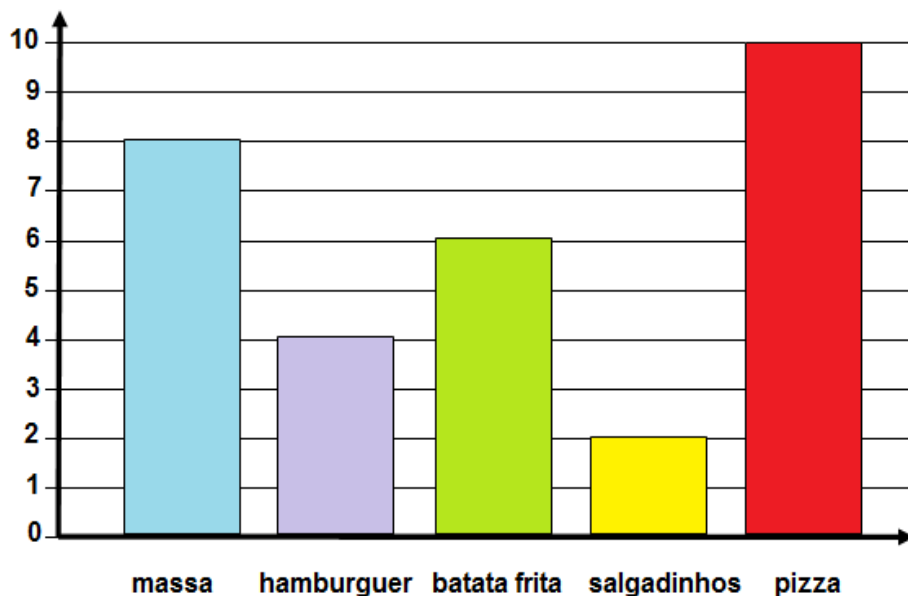
5. Complete as operações com o que está faltando.

$\square + 7 = 9$	$4 + \square = 8$
$7 - \square = 3$	$\square - 7 = 2$
$6 - 4 = \square$	$9 - 2 = \square$
$\square + 3 = 8$	$2 + \square = 7$
$5 + 4 = \square$	$3 - \square = 3$
$\square - 2 = 6$	$\square - 8 = 0$
$\square + 3 = 9$	$7 - 5 = \square$
$\square - 2 = 7$	$9 - 3 = \square$



6. Foi feita uma pesquisa no 2^a ano do turno vespertino sobre os alimentos preferidos da turma. O gráfico abaixo mostra os alimentos e a quantidade de votos que cada alimento recebeu. Observe e responda.

ALIMENTOS PREFERIDOS PELAS CRIANÇAS DA TURMA



- a) Qual o alimento mais votado pela turma?

- b) Qual o alimento menos votado?

- c) Quantos alunos votaram na batata frita?

- d) Ao todo, quantos alunos votaram na massa e nos salgadinhos?
