



# Colégio Dinâmico

Educação Infantil - Ensino Fundamental - Ensino Médio

  colegiodinamico  colegiodinamicojatai.com.br

Aluno (a): \_\_\_\_\_ Data: 03 / 04 / 2020

Professora: \_\_\_\_\_ Série: 2º Ano Turma: (A) (B)

## Atividade de Revisão

Matemática:  
Leitura/Interpretação/Material  
dourado/Decomposição

1. Seu Antônio é dono de uma frutaria. No final do dia, ele parou para conferir suas vendas. Veja os registros do que seu Antônio vendeu no dia.



10 melancias

33 bananas

42 laranjas

5 melões

6 goiabas

- a) Escreva as quantidades vendidas por seu Antônio em ordem crescente.

- b) Qual fruta seu Antônio vendeu em menor quantidade?

- c) Quantas dezenas de laranjas foram vendidas?

- d) Quantas melancias foram vendidas?

e) Desenhe no quadro abaixo a quantidade de goiabas que foram vendidas usando o material dourado.

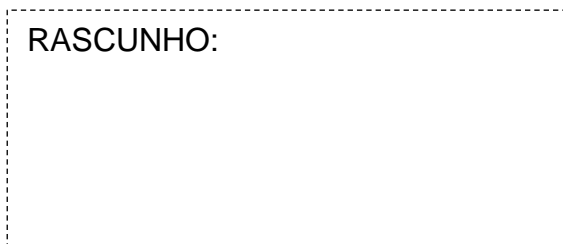


2. Pense e responda.

a) Quantas laranjas seu Antônio vendeu a mais que as bananas?

DEZENA	UNIDADE

RASCUNHO:

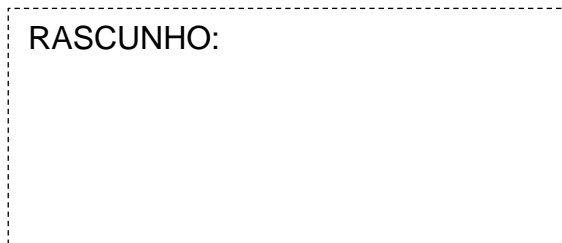


Resposta: \_\_\_\_\_

b) As melancias e os melões juntos formam um total de quantas frutas vendidas?


DEZENA	UNIDADE

RASCUNHO:



Resposta: \_\_\_\_\_

3. Desenhe a quantidade de laranjas vendidas. Depois faça ao que se pede.



- Agora forme grupinhos de 10 unidades. Em seguida responda:

a) Quantos grupinhos de 10 unidades você formou?

b) Sobrou unidades soltas? Quantas?

4. Escreva os números a seguir por extenso.

42	
33	
10	
6	
5	

5. Decomponha os números abaixo os números a seguir indicando suas dezenas e unidades.

5	
10	
33	
6	
42	

**Observação:** Você pode imprimir essa atividade ou copiar as respostas num caderno para corrigirmos quando retornar as aulas. Lembre-se de identificar a atividade (Leitura/Interpretação/Material dourado/Decomposição).