



Colégio Dinâmico

Educação Infantil - Ensino Fundamental - Ensino Médio



colegiodinamico



colegiodinamicojatai.com.br

GEOGRAFIA-6 ANOS

Professor: Leonardo

Correção – módulos: 30,31 e 32.

Capítulo : 07. Páginas: 225 até228.

Inicio Ferramentas livro-02-grupo-04... VOLUME 2 - 6 AN... x Fazer log

21 / 123 148%

1. Aprendendo a pesquisar.
Você vai colocar em prática suas habilidades de pesquisador. Todo pesquisador precisa de uma fonte de informações confiável. Neste caso, sua fonte será a base de conteúdos digitais do Portal COC.

a. Para realizar uma pesquisa, é necessário definir um objetivo. O objetivo desta pesquisa é descobrir informações sobre os seguintes biomas:


- tundra;
- taiga;
- floresta temperada;
- deserto;
- mediterrâneo.

b. Para iniciar a pesquisa, é importante definir um ou mais aspectos a serem pesquisados. Para isso, geralmente fazemos perguntas. Nesse caso, perguntamos:

- Qual é o clima do bioma estudado?
- Em quais regiões do mundo esse bioma ocorre?
- Quais são as características da vegetação do bioma analisado?
- Há outras informações interessantes sobre o bioma em questão?
- Você gostaria de investigar outro aspecto do bioma analisado? Qual?

c. A parte final da pesquisa é o registro dos resultados, que será realizado em formato de relatório. Você vai escrever um texto, de no mínimo 15 e no máximo 20 linhas, descrevendo o bioma pesquisado, com base nos resultados encontrados.

Siga as orientações do professor e boa pesquisa!

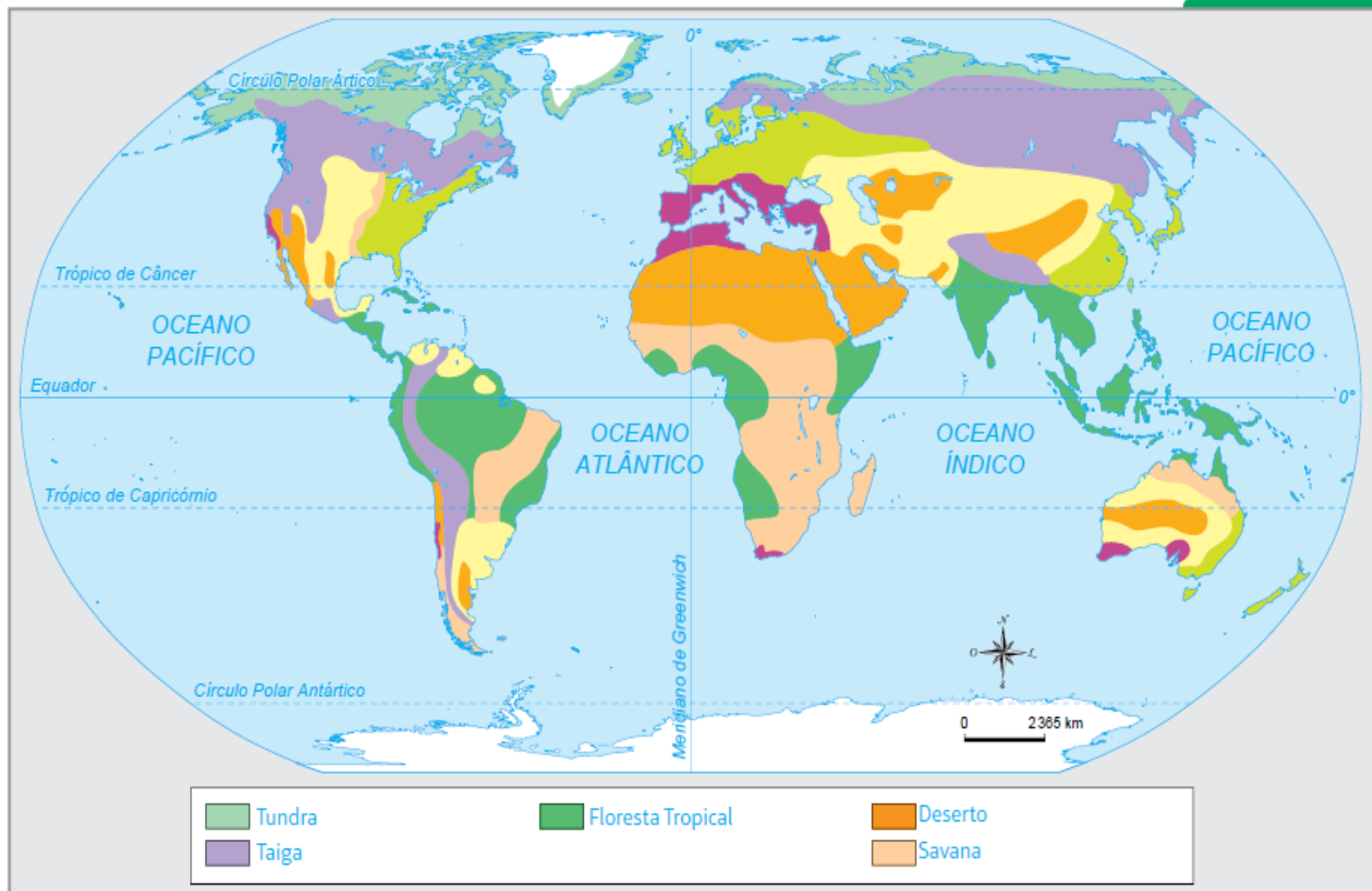


DRAFER123/ISTOCK

225 GEOGRAFIA

Continuação:

2. Observe o mapa e identifique os biomas indicados na legenda.



Continuação:

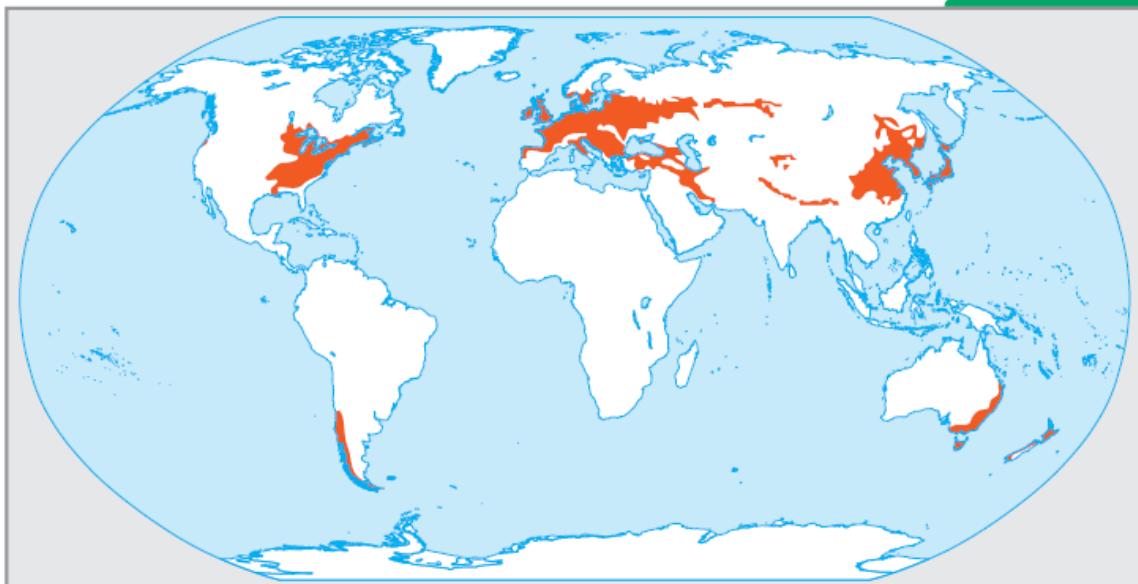
3. Identifique o bioma indicado no mapa.



Trata-se do bioma mediterrâneo.

Continuação:

4. Identifique o bioma destacado no mapa e indique suas características.



Trata-se do bioma floresta temperada, cujas características são: clima temperado, vegetação de árvores caducifólias (em que as folhas caem no inverno), solo fértil e fauna composta de mamíferos, como raposa e javali, e de aves.

Correções:

Trata-se do bioma floresta temperada, cujas características são: clima temperado, vegetação de árvores caducifólias (em que as folhas caem no inverno), solo fértil e fauna composta de mamíferos, como raposa e javali, e de aves.

5. Leia a descrição e indique o bioma a que se refere.

Florestas caducifólias, com pouca variedade, clima com estações bem definidas e bioma presente nos continentes europeu e americano.	Floresta temperada
Vegetação composta de xerófilas, clima extremamente seco, com altas temperaturas durante o dia, fauna composta de animais como répteis e insetos. Pouca ou nenhuma chuva durante a maior parte do ano.	Deserto
Temperaturas extremamente baixas, solos congelados, vegetação composta de musgos e líquens.	Tundra
Vegetação composta de arbustos e árvores de pequeno porte, solo pedregoso e pouco fértil, clima quente e seco no verão e frio e úmido no inverno.	Mediterrâneo
Vegetação homogênea, com árvores de copa em formato semelhante ao de um cone. Baixas temperaturas no inverno e temperaturas amenas no verão.	Taiga

Continuação :

6. A taiga é um bioma de clima subpolar. Dos países relacionados na sequência, escolha um onde esse bioma é encontrado.

(Dica: utilize um mapa-múndi para realizar este exercício.)

a. Brasil

b. África do Sul

c. Austrália

d. México

e. Rússia

Continuação:

PARA CONFERIR

Módulos 28 e 29

1. Preencha corretamente a lacuna.

Ecosistema

é um conjunto de elementos vivos que interagem em um determinado espaço físico.

2. Relacione os fatores que influenciam os biomas à sua respectiva descrição.

- a. Fatores topográficos
- b. Fatores climáticos
- c. Fatores bióticos
- d. Tipos de solo

b Influenciam muito o ambiente, com aspectos como temperatura, umidade, correntes de ar e pluviosidade.

d Capacidade de reter determinados minerais, que podem limitar ou ampliar as variedades de espécies vegetais e animais.

c Formações que têm o efeito de aglomerar ou disper-

4. O bioma dos desertos é caracterizado pelo clima

árido

e pela vegetação

arbustiva.

5. Relacione a paisagem ao bioma correspondente.

a.



SCOTT KAPICH, SHUTTERSTOCK

b.



HOLBOX, SHUTTERSTOCK

Continuação:

228

d. Tipos de solo

- b. Influenciam muito o ambiente, com aspectos como temperatura, umidade, correntes de ar e pluviosidade.
- d. Capacidade de reter determinados minerais, que podem limitar ou ampliar as variedades de espécies vegetais e animais.
- a. Formações que têm o efeito de aglomerar ou dispersar espécies.
- c. Relação de interdependência dos seres vivos.

Módulos 30, 31 e 32

3. Identifique o bioma e descreva suas características.



b.



c.



d.



Parte final :

c Relação de interdependência dos seres vivos.

Módulos 30, 31 e 32

3. Identifique o bioma e descreva suas características.

SCHMITZOLAF/ISTOCK



Bioma: floresta temperada

c.



d.



- b Mediterrâneo
- d Deserto
- a Taiga
- c Tundra