



Colégio Dinâmico

Educação Infantil - Ensino Fundamental - Ensino Médio



colegiodinamico



colegiodinamicojatai.com.br

GEOGRAFIA-7 ANOS

Professor: Leonardo

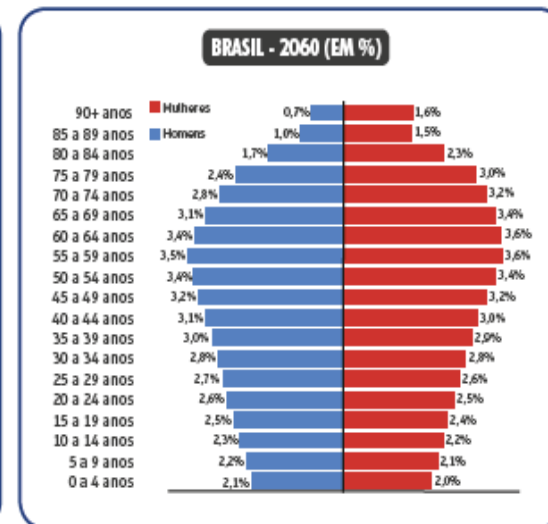
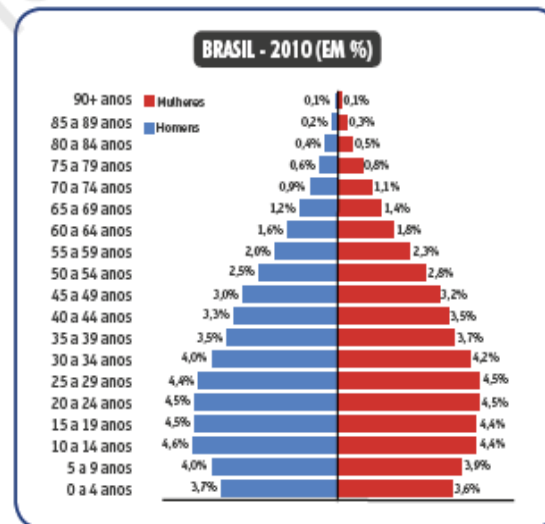
Correções: capítulo-04. Módulos: 25,26 e 27. Grupo- 03.

Módulos 25, 26 e 27 | Dinâmica da população brasileira



Exercícios de aplicação

1. Compare as pirâmides etárias do Brasil em 2010 e em 2060 (projeção). Depois, responda às questões.



Continuação:

- a.** Quais mudanças serão observadas na população brasileira?

A população de crianças e jovens deve diminuir significativamente, ao passo que o número de adultos deve permanecer constante, e a população idosa deverá aumentar significativamente.

- b.** Quais mudanças têm contribuído para essa transformação?

A queda da taxa de fecundidade e da mortalidade e o aumento da expectativa de vida.

- c.** Quais serão as questões a serem enfrentadas pelo governo para atender a essa mudança populacional brasileira?

O aumento da população idosa implica a necessidade de aumento das políticas públicas de saúde, assistência e previdência social.

- 2.** Quais fatores influenciaram a aceleração do crescimento populacional no Brasil, a partir da década de 1940?

A partir da década de 1940, houve uma expansão das políticas de acesso ao saneamento básico no Brasil e avanços médicos na descoberta de remédios e vacinas contra diversas doenças, o que reduziu drasticamente a taxa de mortalidade no país.

Continuação:

3. Leia o texto e responda à questão.

"Em 2030, o país terá mais idosos do que crianças pela primeira vez na história. Serão 41,5 milhões (18% da população) de pessoas acima de 60 anos, contra 39,2 milhões (17,6%) das que terão de zero a 14 anos. Hoje os idosos somam 29,4 milhões (14,3%)."

Disponível em: <<https://coc.pear.sn/VIOEPqF>>. Acesso em: mai. 2019.

Qual importante transformação da população brasileira é apontada no texto e quais as causas dela?

O aumento da população idosa do país, causado pela queda na taxa de fecundidade e o aumento da expectativa de vida.

4. Quais são os fatores associados à queda da taxa de fecundidade no Brasil?

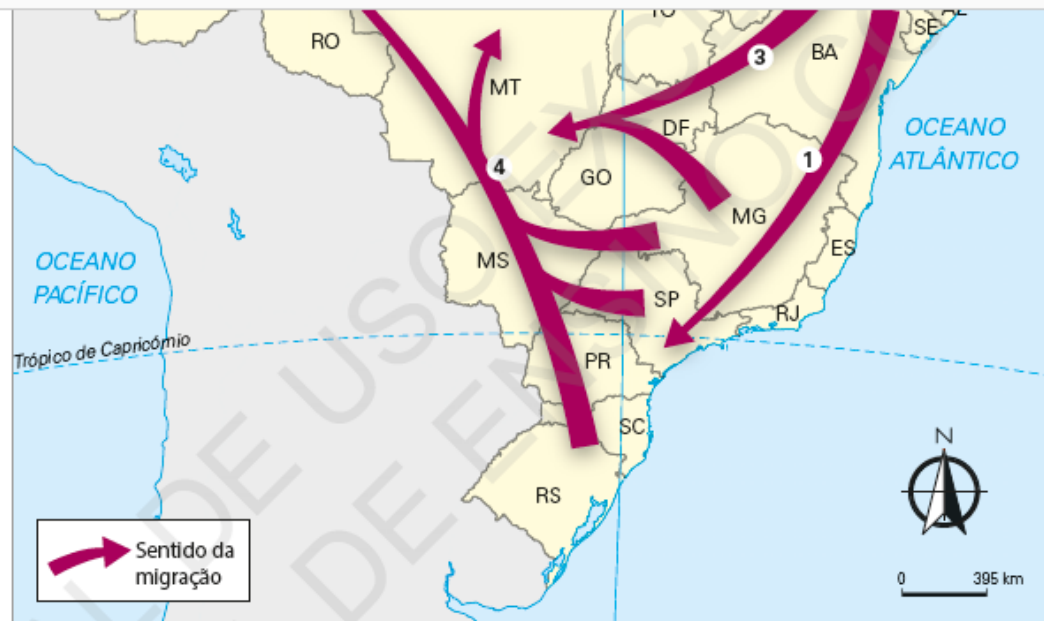
O aumento do acesso a serviços de saúde e à informação quanto a métodos anticoncepcionais, isto é, formas de evitar gravidez, isso somado à maior participação das mulheres no mercado de trabalho, com o processo de urbanização.

5. Quais são as principais motivações das migrações internas do Brasil?

Geralmente, os fluxos migratórios do Brasil são motivados por fatores econômicos, o que significa que as pessoas se deslocam em busca de melhores condições de vida e de acesso a trabalho.

Continuação:

218



- 4 Sul e Sudeste para o Centro-Oeste: representou a expansão da fronteira agrícola para as regiões Centro-Oeste e Norte.
- 1 Nordeste para Sudeste: motivado pela busca de melhores condições de vida e oferta de trabalho nas regiões que vinham apresentando grande crescimento.
- 3 Nordeste e Sudeste para o Centro-Oeste: motivado pelos programas de ocupação do governo e pela construção de Brasília.
- 2 Nordeste para a Amazônia: motivado pela busca de trabalho nos projetos agropecuários do Norte.

7. Os imigrantes que vieram para o Brasil, sobretudo no início do século XX, concentraram-se nas regiões

Continuação:

7. Os imigrantes que vieram para o Brasil, sobretudo no início do século XX, concentraram-se nas regiões

a. Nordeste e Centro-Oeste.

d. Sudeste e Sul.

b. Centro-Oeste e Norte.

e. Sudeste e Centro-Oeste.

c. Norte e Nordeste.

8. Por que houve uma queda do número de imigrantes a partir de 1930?

Porque o governo brasileiro impôs uma série de restrições à entrada de imigrantes após a crise do café de 1929.

Para conferir :

PARA CONFERIR

Módulos 19, 20, 21

1. Relacione as áreas indicadas no mapa com as matrizes culturais brasileiras e suas respectivas descrições.



- a. Povos indígenas
 - b. Povos africanos
 - c. Colonizadores europeus
- I. Ao longo de sua história, sofreram influência dos povos árabes, latinos, bárbaros e celtas, que ocuparam seu

F As áreas de alta e de baixa concentração populacional não apresentam diferenças significativas para as dinâmicas sociais e econômicas das pessoas que vivem nelas.

3. Complete as afirmações com as dinâmicas da distribuição populacional no território brasileiro.

- a. Por concentrarem as funções administrativas e políticas em diferentes níveis nacionais ou regionais, essas áreas apresentam vocação para elevadas densidades populacionais: .

- b. Caracterizadas por áreas urbanas extensas, formadas por diversos municípios, com integração de mobilidade, surgem com a extrapolação da concentração populacional de um centro para as áreas de entorno:

.

- c. Consideradas áreas de concentração populacional, em virtude de sua natureza econômica, que consiste na utilização da mão de obra em atividades industriais e de serviços, concentram-se nas áreas de

Continuação:

c. Colonizadores europeus

- I. Ao longo de sua história, sofreram influência dos povos árabes, latinos, bárbaros e celtas, que ocuparam seu território e contribuíram para a sua formação cultural.

2 - c

- II. Estavam espalhados por todo o seu território e eram bastante fragmentados, apresentando variedade linguística muito grande; não tinham a noção de propriedade e suas habitações eram coletivas.

1 - a

- III. Apresentavam grande conhecimento sobre agricultura e mineração e consideravam os metais, como ouro e ferro, sagrados; sua contribuição para a formação brasileira ocorreu por meio da migração forçada.

3 - b

Módulos 22, 23 e 24

2. Sobre a distribuição da população brasileira pelo território, marque verdadeiro **V** ou falso **F** nas afirmativas.

- F** A população brasileira apresenta uma distribuição completamente homogênea em seu território, resultado de um planejamento estratégico de ocupação.
- V** Como resultado direto da colônia de exploração portuguesa estabelecida no Brasil, as áreas litorâneas foram mais densamente ocupadas do que as áreas interiores.
- V** As áreas urbanas brasileiras concentram maiores po-

- c. Consideradas áreas de concentração populacional, em virtude de sua natureza econômica, que consiste na utilização da mão de obra em atividades industriais e de serviços, concentra a maior parte da população brasileira desde o período do êxodo rural:

áreas urbanas

Módulos 25, 26 e 27

4. O aumento da expectativa de vida, associado à queda das taxas de fecundidade e de mortalidade da população brasileira, terá como consequência futura o aumento da população de
- a.** idosos.
- b.** adultos.
- c.** jovens.
- d.** imigrantes.
- e.** emigrantes.
5. Complete, corretamente, as lacunas.

Ao longo dos anos, a Região foi a que mais recebeu migrantes, e, atualmente, a Região também tem sido um dos principais destinos dos fluxos migratórios. Essas regiões receberam migrantes de várias partes do Brasil, e

Continuação:

Módulos 22, 23 e 24

2. Sobre a distribuição da população brasileira pelo território, marque verdadeiro **V** ou falso **F** nas afirmativas.

- F** A população brasileira apresenta uma distribuição completamente homogênea em seu território, resultado de um planejamento estratégico de ocupação.
- V** Como resultado direto da colônia de exploração portuguesa estabelecida no Brasil, as áreas litorâneas foram mais densamente ocupadas do que as áreas interiores.
- V** As áreas urbanas brasileiras concentram maiores populações, e não as áreas rurais, como resultado direto de suas funções econômicas, que têm base na indústria e nos serviços.

- c.** jovens.
- d.** imigrantes.
- e.** emigrantes.

5. Complete, corretamente, as lacunas.

Ao longo dos anos, a Região foi a que mais recebeu migrantes, e, atualmente, a Região também tem sido um dos principais destinos dos fluxos migratórios. Essas regiões receberam migrantes de várias partes do Brasil, e o principal polo de origem dessas migrações é a Região .