



Aluno (a):

Data: \_\_\_\_ / \_\_\_\_ /2020.

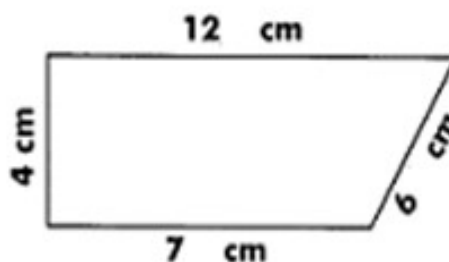
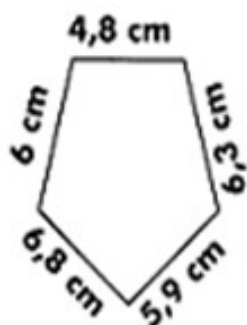
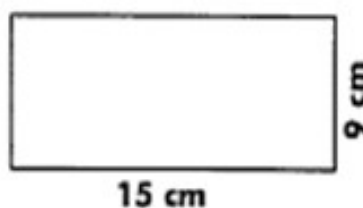
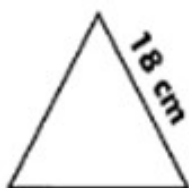
Professor (a): Série:5º Ano

Assinatura do responsável:

Turma: (A) (B)

### Atividade Avaliativa de Cálculo – 5º ano- 4º Bimestre

1) Calcule o perímetro das figuras abaixo:



2) Quantos reais correspondem a:

a) 50% de 48 reais \_\_\_\_\_.

b) 10% de 980 reais \_\_\_\_\_.

2) Resolva as situações problema abaixo:

a) Se uma empresa possui 100 funcionários e 30% são mulheres, qual a porcentagem de homens nessa fábrica?

R:

b) Catarina recebe R\$ 1.200,00 por mês, este mês ela receberá um aumento de 20%. Quanto ela receberá de aumento?

R:

c) Maria quer comprar um celular, fez uma pesquisa e encontrou em uma loja por R\$ 1.800,00, ela conseguiu um desconto de 15%. Quanto Maria pagará pelo celular?

R:

d) Marcos tem um álbum, já comprou 300 figurinhas, mas 40% delas são repetidas. Quantas figurinhas repetidas ele tem?

R: